

استعمال المواد العضوية وغير العضوية

استرداد متظم للمعارف

تمرين 1

تلحق النفايات المنزلية في المطارح العشوائية أضرارا خطيرة بالبيئة حيث يتم تصريف كميات كبيرة منها في التربة والماء والهواء.

أبرز من خلال عرض مبسط الآثار السلبية لهذه النفايات وعواقبها على البيئة والصحة.

تمرين 2

تعتبر انبعاثات غازات الاحتباس الحراري السبب الرئيسي في التغيرات المناخية الملاحظة على سطح الأرض. أبرز من خلال عرض واضح العوامل المؤدية إلى تضخيم ظاهرة الاحتباس الحراري مبينا أخطار ذلك على البيئة.

استثمار المعارف وتوظيف القدرات

تمرين 1

يؤدي التطور الاقتصادي والاجتماعي الذي يشهده المغرب إلى تزايد النفايات المنزلية كما وكيفا، وقد أصبحت تشكل عبئا كبيرا على المتدخلين في هذا المجال.

يعطي الجدول التالي بعض المعطيات حول كمية النفايات المنزلية المطروحة في اليوم بالمغرب :

السنة	1960	1992	1998	1999	2000	2005	2010
كمية النفايات المنزلية بالطن في اليوم	1600	12370	14761	17413	18055	20822	24137
كمية النفايات المنزلية بالكغ في اليوم لكل نسمة	-	0,49	0,54	0,63	0,66	0,70	0,73

الوضيعة 1

تستقبل مطارح النفايات المنزلية كل يوم مواد مختلفة. تتوفر بعض المطارح على مراكز لفرز النفايات المنزلية وأحيانا لمعالجتها (تيفلت، والماس، ميسور). تقدر نسبة النفايات المنزلية الخاضعة لإعادة التدوير ما بين 0,09% - 3,3%.

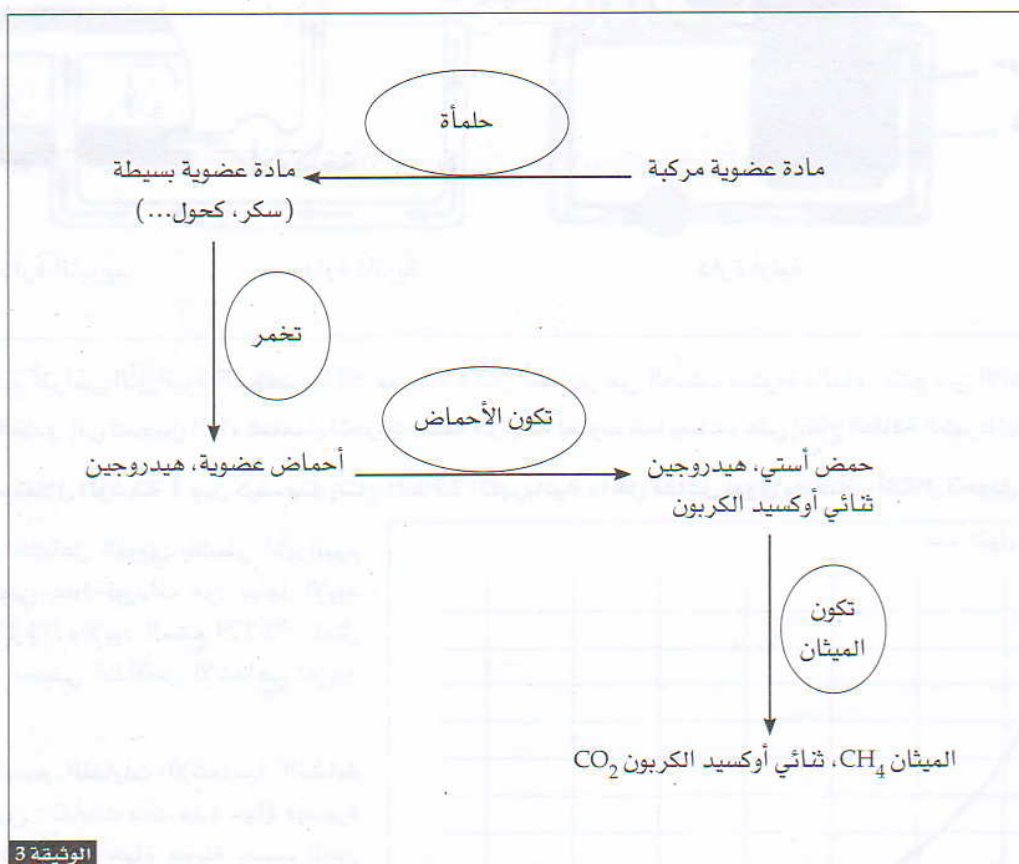
مكونات النفايات المنزلية في بعض المراكز الحضرية بالنسب المئوية :

الصورة	أكادير	سلا	الرباط	مكونات النفايات المنزلية %
44	77	75	72	مادة عضوية
8	6	10	9 - 14	ورق وورق مقوى
13	10	10	6 - 7	بلاستيك
2	1,5	1	2	فلزات
3	1,5	1,5	2	زجاج - سيراميك
30	4	7,5	4 - 6	مواد مختلفة

الوثيقة 2

غاز الميثان CH_4 مادة غنية بالطاقة : $1m^3$ من CH_4 = 1 كغ من الفحم \approx 0,56 لتر من البنزين، يمكن استخلاصها من المادة العضوية عن طريق التخمير.

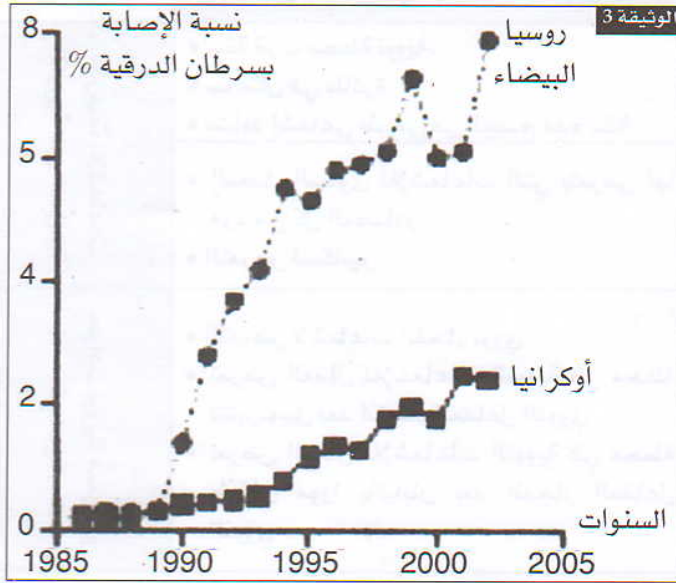
تُعطي الوثيقة 3 مراحل استخلاص الميثان من المواد العضوية.



الوثيقة 3

سؤال : انطلاقا من تحليل معطيات الوثائق 1 و 2 و 3، وربط المعلومات المستخلصة منها، بين كيف يمكن الاستفادة من النفايات المنزلية بالمغرب بدل أن تشكل مصدرا لتلوث البيئة.

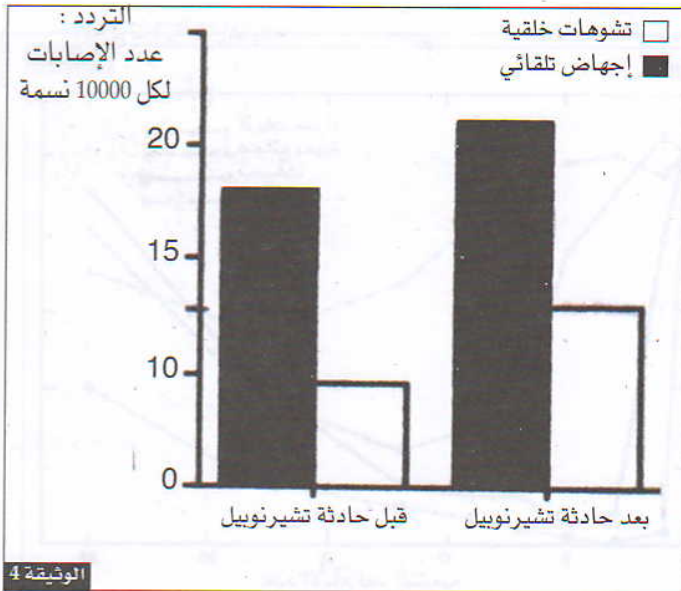
2 - اعتمادا على معطيات الوثيقة 2 حدد الدور الإشعاعي للإيود $^{131}\text{I}_{53}$ واستنتج نوع النفايات الإشعاعية النشاط التي يصنف ضمنها هذا العنصر.



3 - أذكر بعض طرق تدبير النفايات النووية والتخلص منها.

من بين الأخطار المحدقة باللجوء إلى الطاقة النووية إمكانية حدوث تسرب المواد المشعة وإمكانية انفجار قلب المفاعل النووي. كمثال لذلك حادثة تشيرنوبيل 26 أبريل 1986 أدت إلى انتشار سحابة نووية في معظم دول أوروبا الغربية تلتها ترسب الدقائق الإشعاعية النشاط بالتربة كاليود $^{131}\text{I}_{53}$ الذي ينتقل عبر السلاسل الغذائية ويتركم في الغدة الدرقية عوض الإيود العادي $^{126}\text{I}_{53}$.

- تمثل الوثيقة 3 تطور سرطان الغدة الدرقية عند الأطفال في روسيا البيضاء وأوكرانيا قبل وبعد حادثة تشيرنوبيل النووية.



- كما تُعطي الوثيقة 4 تردد الإجهاض التلقائي والتشوهات الخلقية عند الإنسان في روسيا البيضاء قبل وبعد حادثة تشيرنوبيل النووية.

4 - حلل معطيات الوثيقتين واقترح تفسيراً للإصابة بهذه الأمراض والتشوهات.

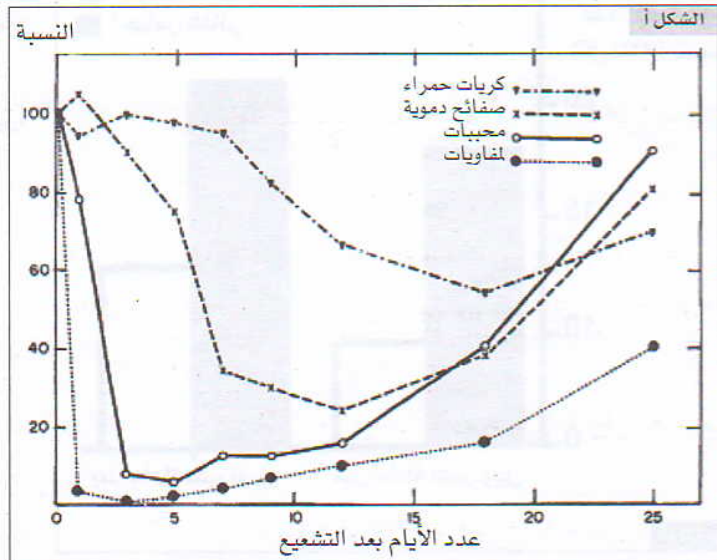
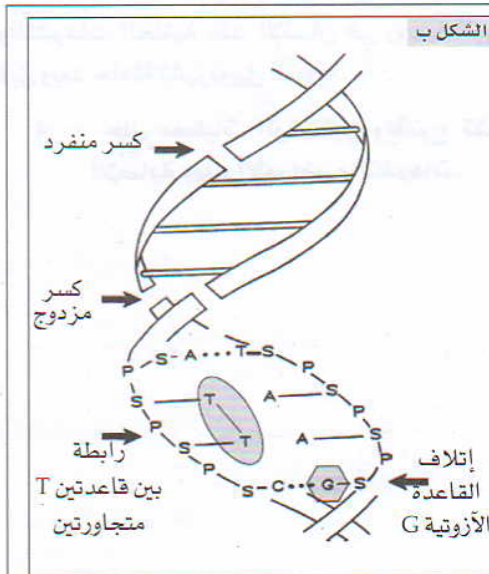
تمرين 3

منذ بداية إستغلال الإنسان للطاقة النووية قبل أكثر من خمسين سنة، واجهت البشرية خطر الإشعاعات النووية. يكون تعرض الإنسان لهذه الإشعاعات غير مؤلم ولا تكون التأثيرات ملاحظة إلا بعد تجاوز العتبة المسموح بها.

يلخص جدول الوثيقة 1 بعض عواقب تعرض الإنسان للتسمم الإشعاعي.

عواقب التسمم الإشعاعي	الجرعة mSv بـ	ظروف التعرض للإشعاعات النووية	
لا تلاحظ تأثيرات سلبية في حالة تعريض الجسم بكامله للإشعاعات النووية	0,01 ↓ 100	<ul style="list-style-type: none"> • سنة قرب محطة نووية. • ساعتان في طائرة. • نشاط إشعاعي طبيعي في الجسم مدة سنة • المعدل السنوي للإشعاعات التي يتعرض لها فرد من كل المصادر. • التعرض لسكانير 	جرعات الإشعاعات النووية غير المؤدية
<ul style="list-style-type: none"> • ارتفاع نسبة الاصابات بسرطان الدم، اختلالات في الجهاز الهضمي واصابات في النخاع العظمي. • حروق جلدية - نزيف دموي داخلي. • تشوهات خلقية لدى الأجنة. • سرطانات متعددة - موت. 	1000 ↓ 10000	<ul style="list-style-type: none"> • التعرض لإشعاعات انفجار نووي • تعرض العمال للإشعاعات النووية في محطة تشيرنوبيل بعد انفجار المفاعل النووي • تعرض العمال للإشعاعات النووية في محطة طوكاي مورا باليابان بعد انفجار المفاعل النووي 	حوادث نووية مدنية أو عسكرية

الوثيقة 1 بينت عدة تجارب أن هناك علاقة بين الاختلالات الفيزيولوجية والبيوكيميائية والتعرض للتسممات الإشعاعية. تعطي الوثيقة 2 مثالين لهذه الإختلالات الناتجة عن تجارب التشعيع عند نوع من الفئران.



الوثيقة 2 تأثير الإشعاعات النووية على ADN

تأثير الإشعاعات النووية على خلايا الدم عند فأر

تتكون الكريات الدموية انطلاقاً من خلايا أصل توجد في النخاع العظمي. تتدخل اللمفاويات والمحببات في الدفاع عن الجسم، أما الصفائح الدموية فهي ضرورية لتجلط الدم.

سؤال : من خلال تحليل معطيات الوثيقتين 1 و 2، فسر علاقة الأنشطة النووية بالمشاكل الصحية الناتجة عن تعرض الإنسان للإشعاعات النووية.